

算数 たしかめシート 2-⑥

名前 ()

13 次の□にあてはまる > , < , = を書きましょう。

① 208 □ 280

② 140 □ 30 + 100

③ 320 □ 32

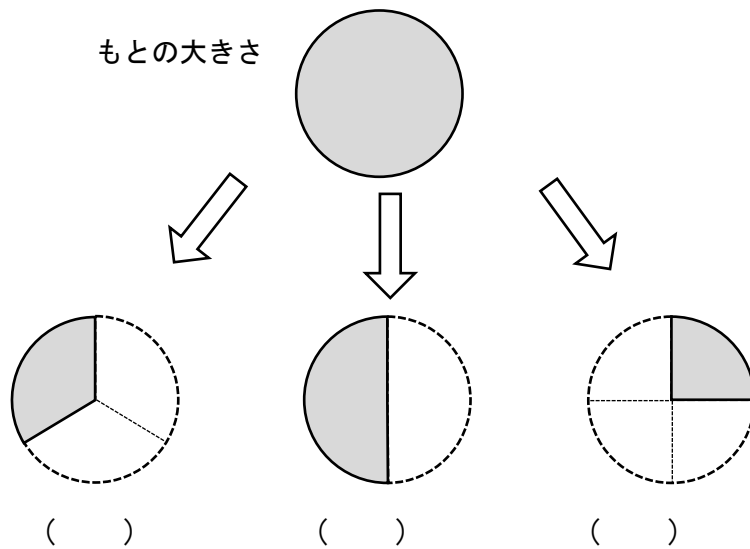
④ 15 □ 7 + 8

⑤ 100 - 70 □ 20


14

① もとの大きさの $\frac{1}{3}$ は どれですか。

正しいものをえらんで、() に ○ をつけましょう。



② 12 この $\frac{1}{4}$ は 何こ ですか。図を見て考えましょう。



□ こ

算数 たしかめシート 2-⑥

名前 ()

13 次の□にあてはまる $>$, $<$, $=$ を書きましょう。

① 208 $<$ 280

② 140 $>$ $30 + 100$
 $= 130$

③ 320 $>$ 32

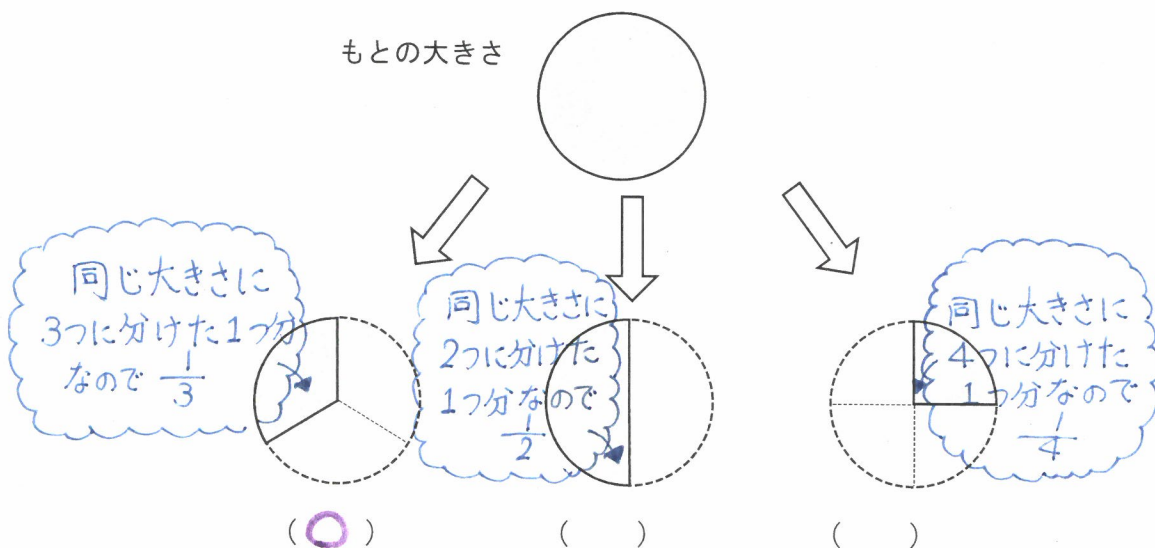
④ 15 $=$ $7 + 8$
 $= 15$

⑤ $100 - 70$ $>$ 20
 $= 30$

14

① もとの大きさの $\frac{1}{3}$ は どれですか。

正しいものをえらんで、() に \bigcirc をつけましょう。



② 12この $\frac{1}{4}$ は 何こ ですか。図を見て考えましょう。



3

こ