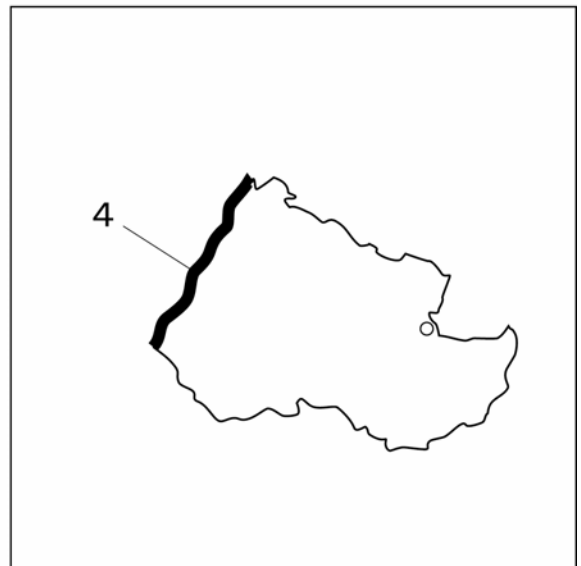
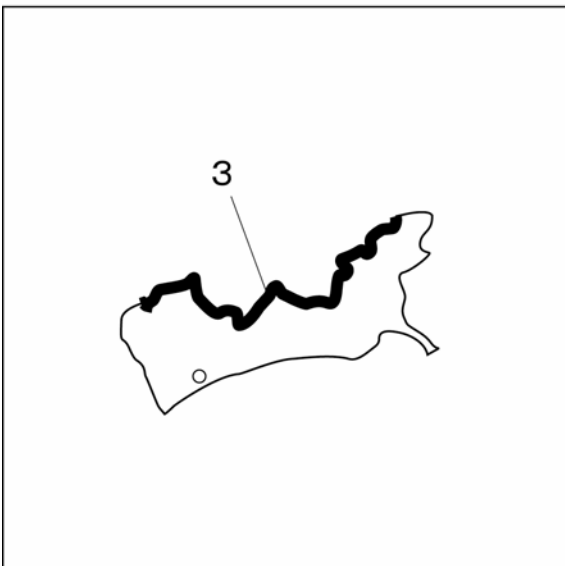
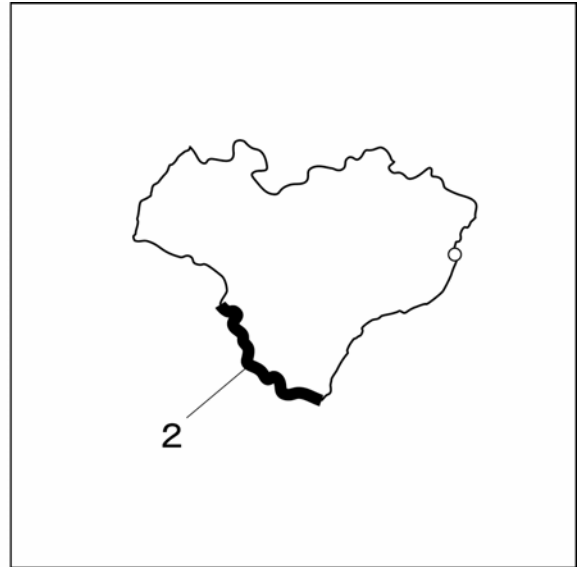
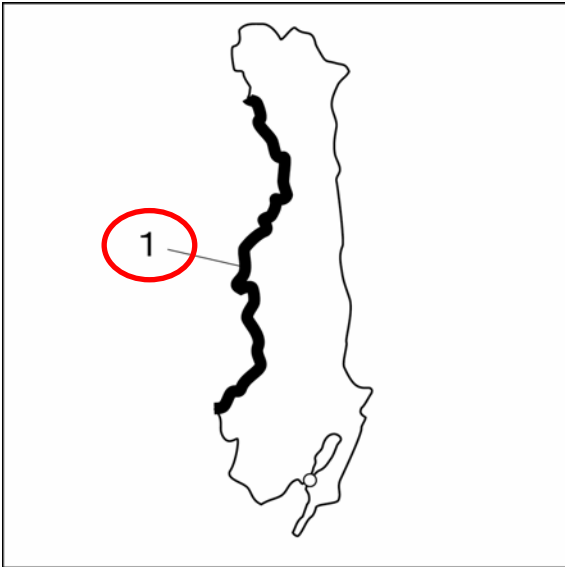


**1** 次の四つの図は、兵庫県、鳥取県、島根県、広島県のいずれかの形を表しています。図中の1～4の太い線で示した県境のうち、岡山県と接していない県境はどれですか。一つ選び、番号で答えなさい。

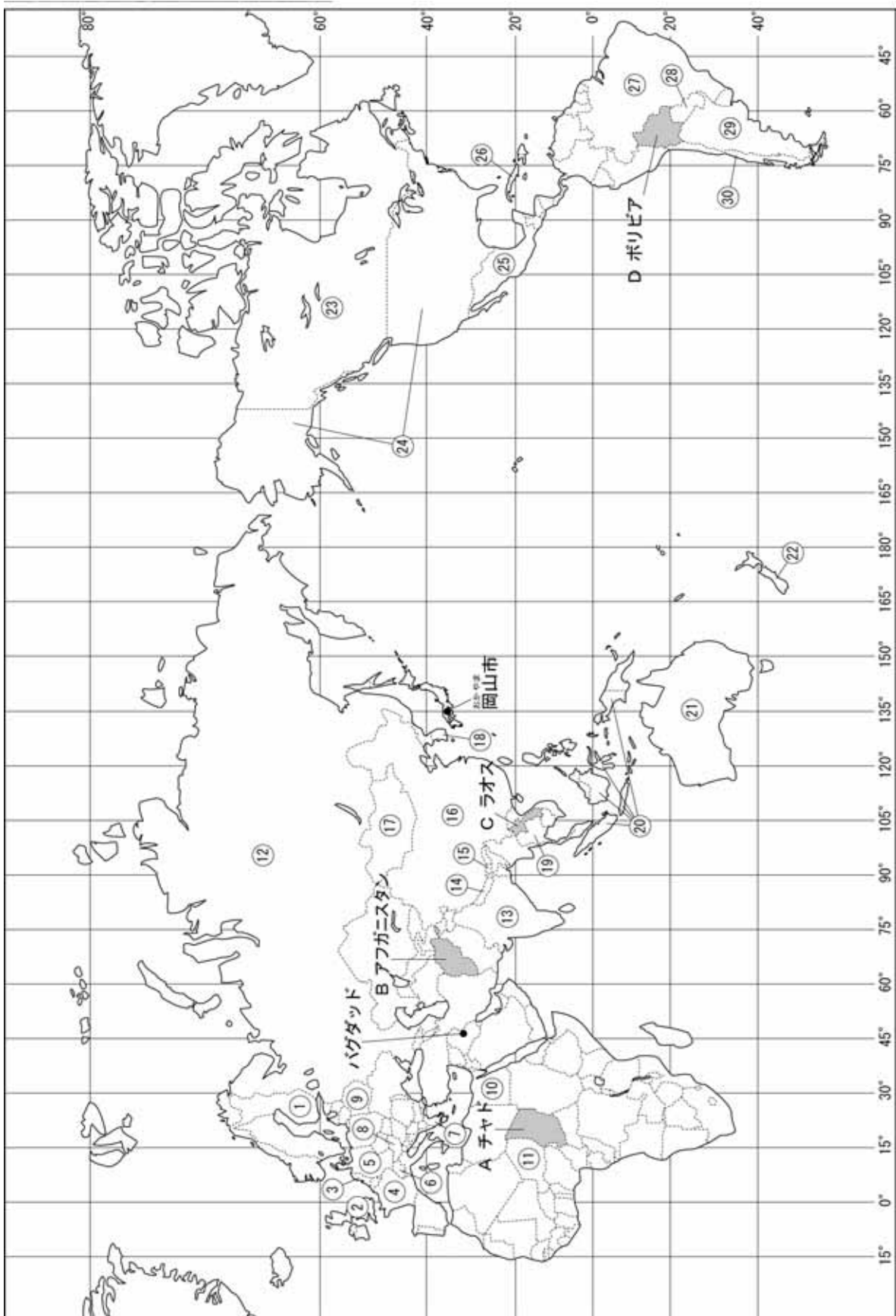
ただし、四つの県は方位がばらばらに置かれています。島については図から省いていま

**通過率】** す。 は県庁所在地を表します。

**37.2%**



2 次の地図を見て、後の ， の問いに答えなさい。



岡山市が日本時間で1月7日午前10時のとき、バグダッドは現地時間で何日の何時ですか。地図を見て考え、次の1～5の中から一つ選び、番号で答えなさい。

【通過率】

47.6%

- 1 1月6日 午前4時  
3 1月7日 午前4時  
5 1月8日 午前4時

- 2 1月6日 午後4時  
4 1月7日 午後4時

地図中のA～Dの国は内陸国ですが、～30の国々の中にも内陸国がいくつかあります。～30の中から内陸国を一つ選び、その番号と国名をそれぞれ解答欄に書きなさい。

【通過率】

75.3%

- スイス  
オーストリア  
ベラルーシ  
ニジェール  
ネパール  
ブータン  
モンゴル  
・ パラグアイ など

3 次の表を参考にして，A県の地域的特色について調べてみようと思います。後の  
の問いに答えなさい。

	北海道	東京都	岡山県	A県
面積 (平方キロメートル)	83434	2187	7112	5676
人口(千人)	5683	12064	1951	1493
農業粗生産額 (億円)	10551	312	1362	1452
製造品出荷額 (億円)	59172	179590	63695	34671
小売業販売額 (億円)	71173	174104	21467	15601
全国第一位の生 産品	漁業生産物 生乳 小豆 ばれいしょ てんさい	雑誌・定期刊行物 書籍 牛皮革 医療用電子応用装 置 パソコン	マスカット ピオーネ 学校制服 事務・作業・衛生 用衣服 花むしろ・ござ	いよかん タオル みかん 真珠母貝 養殖まだい

(平成12年国勢調査などによる)

【通過率】  
52.0% 表から読み取れることを述べた次の1～4の文のうち，正しいものを一つ選び，番号  
で答えなさい。

- 1 この4都道県の中で，人口密度が最もA県に近いのは北海道である。
- 2 この4都道県の中で，農業生産の特色が最もA県と似ているのは岡山県である。
- 3 A県は，この4都道県の中で製造品出荷額が最も低いが，小売業販売額は2番目に高い。
- 4 A県は山がちな県であり，この4都道県の中で最も漁業がさかんな県でもある。

【通過率】  
62.6% A県の地域的特色を明らかにするための調査項目としてふさわしくないものを次  
の1～4の中から一つ選び，番号で答えなさい。

- 1 「県内の人口分布のようす。」
- 2 「産業別の人口の割合。」
- 3 「生産品や人の流れなど，他地域との結びつき。」
- 4 「てんさいづくりのようす。」

4 我が国の人口について、次の　、　の問いに答えなさい。

【通過率】

51.9% 次の文中の（　　）（　　）のそれぞれにあてはまる語句を書きなさい。

【通過率】

高い

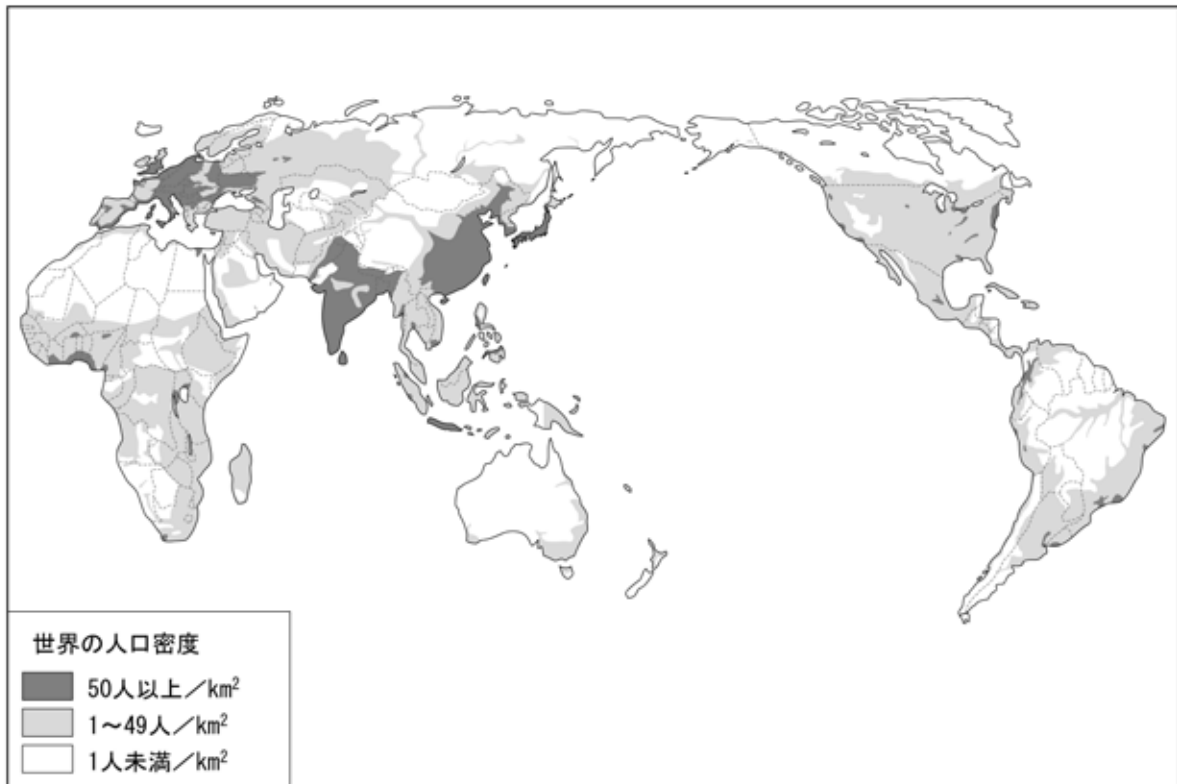
46.9%

過疎

資料1を見ると、日本は世界的に人口密度が（　　）地域だと分かる。

一方、資料2からは、我が国の総人口が増え続けている中で、A町は人口が減っていることが分かる。A町のように人口がいちじるしく減っている地域では、産業がおとろえたり生活が不便になったりする現象がおきている。この現象を（　　）という。

【資料1】世界の人口密度



（世界人口年鑑 1999 年版などによる）

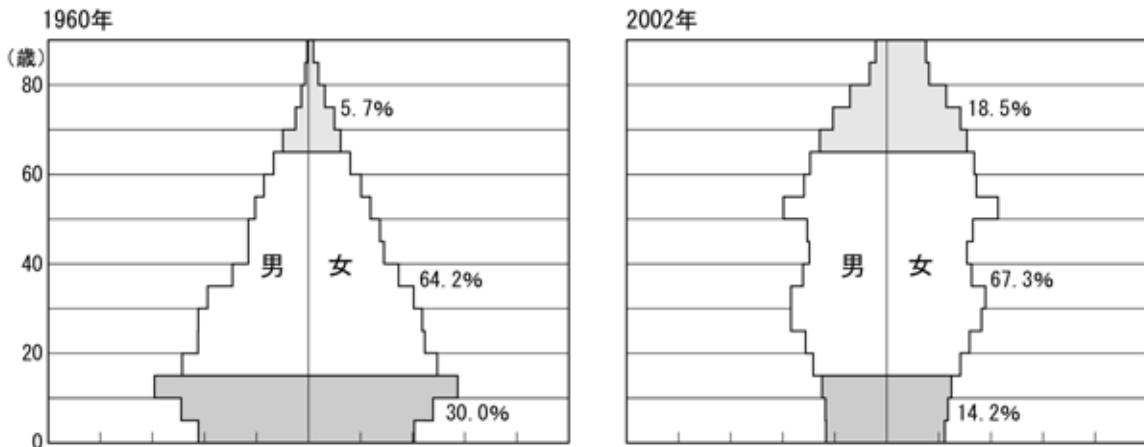
【資料2】 我が国とA町の人口の推移

年次	我が国の総人口（単位：千人）	A町の人口（単位：人）
昭和25年(1950年)	83,200	10,788
昭和50年(1975年)	111,940	7,105
平成12年(2000年)	126,926	5,656

（国勢調査などによる）

次の二つのグラフは、我が国の年齢階級別人口構成を示しています。これらのグラフについて説明した後の文章の  にあてはまる語句を、漢字4文字で書きなさい。

我が国の年齢階級別人口構成



通過率】  
20.0%

(日本国勢図会 2003 / 2004 年版および数字で見る日本の 100 年第 4 版による)

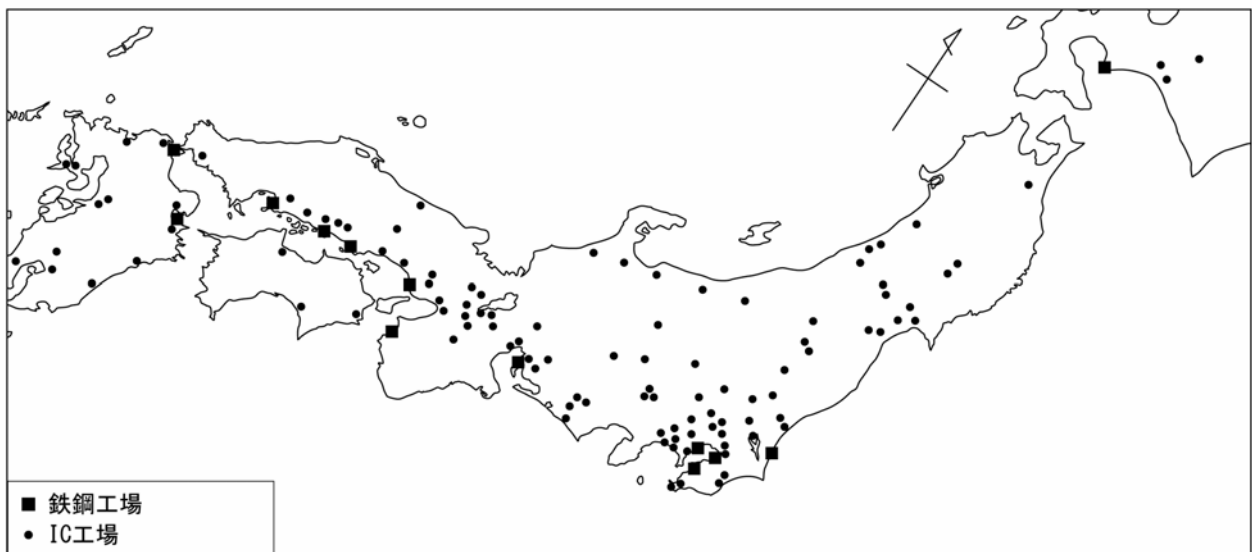
1960 年における 15 歳未満の人口比率は全人口の 30.0%にのぼるが、65 歳以上の人口比率は 5.7%しかない。2002 年には、15 歳未満の人口比率は 14.2%となり、65 歳以上の人口比率は 18.5%となっている。これらのことから、日本では  化が進んでいることが分かる。

少子高齢

5 次の地図は、我が国の鉄鋼工場や IC 工場の分布を示しています。IC 工場が鉄鋼工場とは違って内陸部にも分布しているのはなぜですか。理由を書きなさい。

通過率】  
37.0%

資料 日本の鉄鋼工場とIC工場の分布 (2002年)



(日本国勢図会 2003 / 2004年版による)

鉄鋼は、原材料や製品の輸送費用がかかるため臨海部に立地しているが、ICは価格の割りに小さくて軽いので、輸送にあまり費用がかからない。そのため、空港や高速道路など交通の便がいいところに工場が進出した。

6 次の年表を見て、後の , の問いに答えなさい。

年代	日本のできごとや ようす	現在の岡山県にあたる 地域のできごとやようす
紀元前	3000 採集や狩りの生活	
紀元後		
		大和朝廷の統一が進む
593	聖徳太子が摂政となる	
645	大化の改新	
710	都を奈良（平城京）に移す	
794	都を京都（平安京）に移す	
		ア
1156	保元の乱がおこる	
1159	平治の乱がおこる	
1192	源頼朝が征夷大將軍になる	
1333	鎌倉幕府が滅びる	
1392	南朝と北朝が一つになる	

【通過率】

47.9%

次の1～4のうち、年表のAにあてはまるものを一つ選び、番号で答えなさい。

- 1 稲作・金属器が伝わる
- 2 旭川下流の三角州に藤原氏の莊園がつくられる
- 3 県内のほとんどの武士が平家側について戦う
- 4 造山古墳（岡山市）がつくられ

【通過率】

37.2%

次の1～4のうち、矢印Aの期間の権力の大きみな移り変わりの説明として、最もふさわしいものはどれですか。次の1～4の中から一つ選び、番号で答えなさい。


- 1 都の天皇が政治の実権をにぎっていた時代から、東国の幕府が実権をにぎる時代になった。
- 2 都の天皇が政治の実権をにぎっていた時代から、東国に逃れた天皇が実権をにぎる時代になった。
- 3 東国の幕府が政治の実権をにぎっていた時代から、都の幕府が実権をにぎる時代になった。
- 4 東国の幕府が政治の実権をにぎっていた時代から、東国に逃れた天皇が実権をにぎる時代になった。

7 和子は、室町時代から安土・桃山時代について調べています。このことについて、次の問いに答えなさい。

【通過率】  
82.8%

和子は、次の写真の建物についての説明を右の各文から選ぶようとしています。正しいものを、次のA群とB群から一つずつ選び、番号で答えなさい。

【通過率】  
84.3%



< A 群 >

- 1 周辺には、大名の城下町が発達した。
- 2 書院造を取り入れた建築である。
- 3 周辺には、南蛮船の出入りする港町が発達した。
- 4 豪華で雄大な建築である。

< B 群 >

- 1 藤原頼通が築いた鳳凰堂
- 2 足利義満が築いた金閣
- 3 織田信長が築いた安土城
- 4 足利義政が築いた銀閣

【通過率】  
63.8%

和子は、次の資料1、2をノートにはり付けて、これらの資料にかかわりの深い豊臣秀吉の政策についてまとめることにしました。その政策には歴史上どのような意味があるかをそのノートに書き込むとしたら、後の1～5のうちではどれが最もふさわしいですか。一つ選び、番号で答えなさい。

資料1

ぶんろく  
文禄二年

ぶんご つもり まがり  
豊後国大分郡津守村のうち 曲村の検地帳

かみばた せ と うまのすけ  
上畠六畝 六斗 右馬助

ちゅうでん ちょう たん こく あるじ  
中田一町二反荒れ 十三石二斗 主なし

( 「町」「反」「畝」は面積の単位。「石」「斗」は収穫高の単位。 )

資料2

ひやくしやう  
諸国の百姓が刀や  
わきざし、弓、やり、  
鉄砲、そのほかの武具  
などを持つことはかた  
く禁止する。  
(部分要約)

- 1 関白の地位につき、天皇の伝統的な権威をも利用して政治を行った。
- 2 武士と百姓などとの区別をはっきりさせ、武士が支配する社会のしくみをととのえた。
- 3 二度にわたる朝鮮出兵は人々の重い負担となり、その結果豊臣氏の勢力はおとろえた。
- 4 はじめは助けていた將軍足利義昭を京都から追放したため、室町幕府がほろんだ。
- 5 下の者が上の者をたおしていく下剋上とよばれる動きが広まるきっかけとなった。



8 江戸時代前半のようすについて、次の ~ の問いに答えなさい。

【通過率】  
36.3%

次の資料は、江戸幕府が定めた法令の一部です。幕府がこの法令を定めたのはなぜですか。15字以内で書きなさい。 **大名を厳しく統制するため**

- 一 新しい城をつくってはならない。石垣がきなどがこわれたときは奉行所ぶぎょうしょの指示を受けること。
- 一 五百石こく積み以上の船をつくってはならない。

(部分要約)

【通過率】  
48.2%

鎖国政策こくこくをとっていた幕府が、長崎の出島でオランダと貿易を行ったのはなぜですか。次の資料を見てその理由を考え、後の1～4の中から最もふさわしいものを一つ選び、番号で答えなさい。

16～17世紀のキリスト教の宗派のひろがり

プロテスタントなどの新教の信者が多い国	オランダ イギリス
カトリック教会やイエズス会の勢力が強い国	スペイン ポルトガル

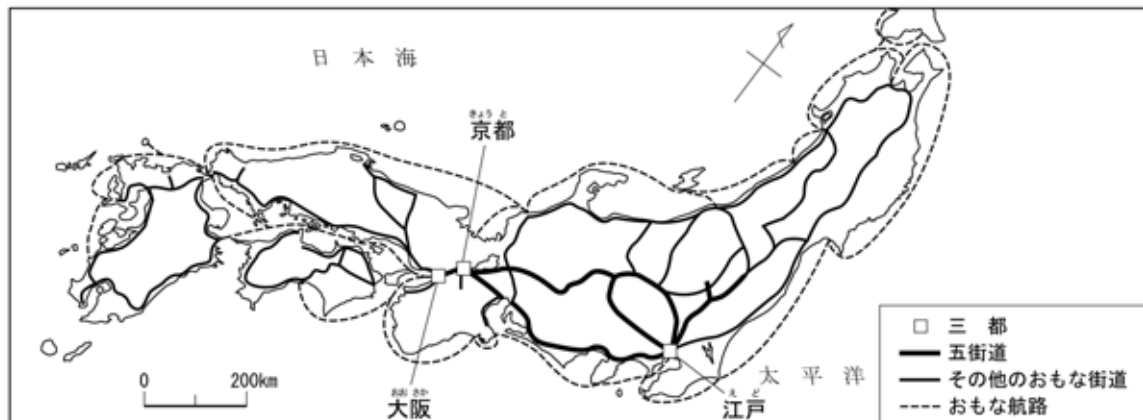
- 1 キリスト教が広まっても、幕府の利益を優先したから。
- 2 キリスト教とはまったく関係ない国だから。
- 3 幕府に利益があり、キリスト教を広める恐れのない国だから。
- 4 キリスト教の布教を認めれば、幕府の利益が増大するから。

次の資料1は、江戸時代に発達した街道と航路を表しています。このように交通網が発達したのはなぜですか。資料2から言えることを書きなさい。

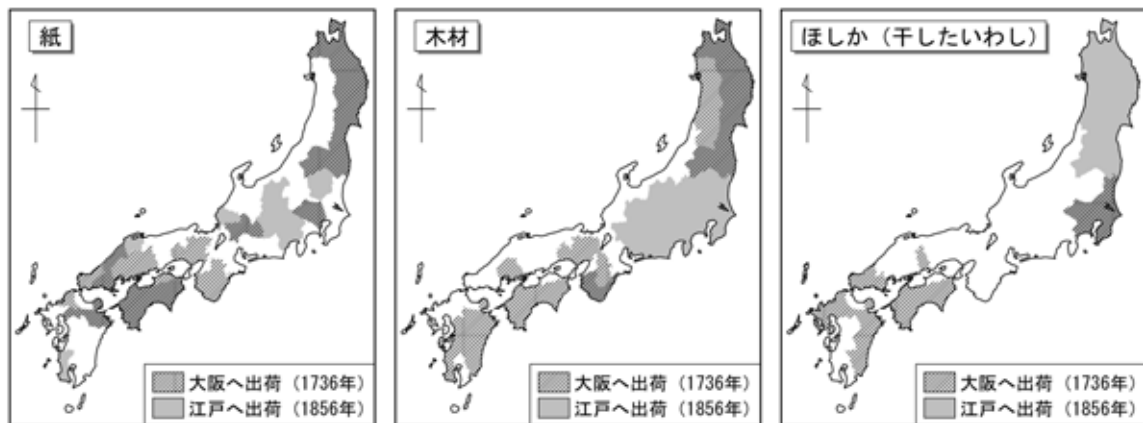
【通過率】

51.5%

【資料1】江戸時代の交通



【資料2】江戸時代の特産物の産地



(国史大辞典などによる)

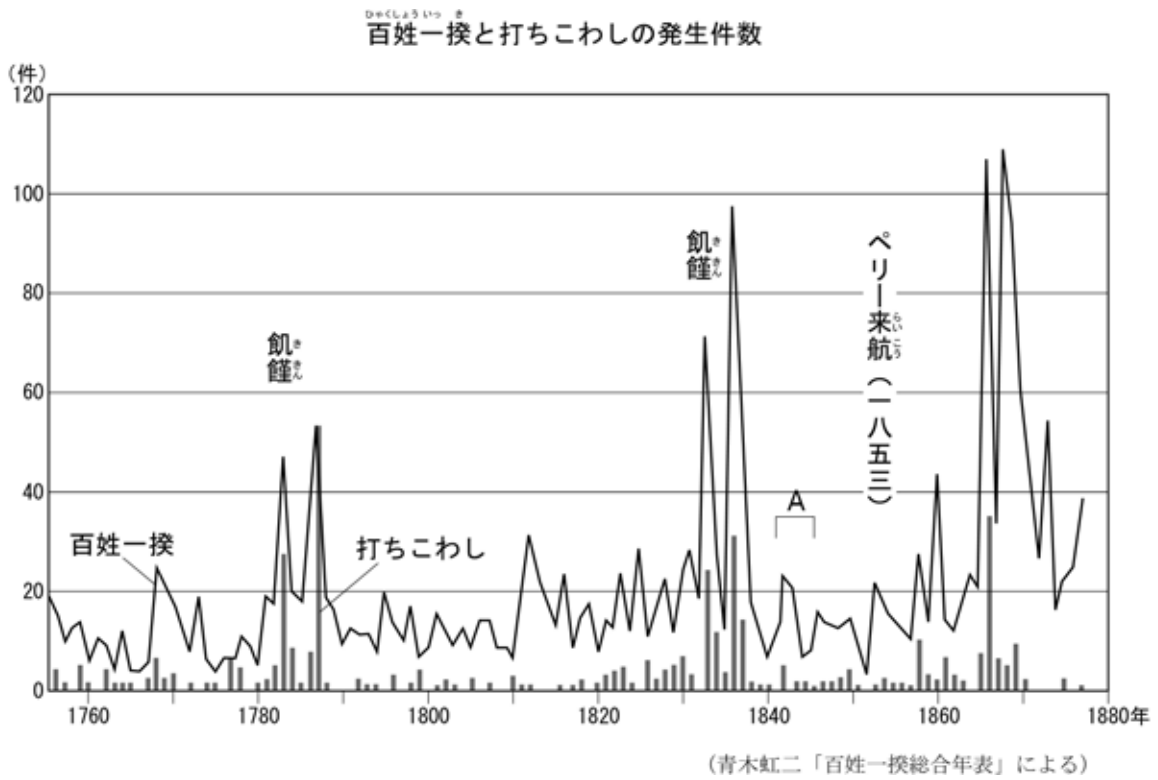
産業の発達とともに全国各地で特産物が作られ、それらを運搬する交通網が発達した。

9 江戸時代後半のようすについて、次の ， の問いに答えなさい。

【通過率】  
36.7%

次の資料のAの時期に行われた幕府の改革を何といいますか。

天保（の改革）



次の図は、18世紀の終わりから19世紀初めにかけて、杉田玄白<sup>げんぱく</sup>の弟子である大槻玄沢<sup>おおつきげんたく</sup>が江戸で開いた会のような様子を表したものです。この図から考えられることを後の1～4の中から一つ選び、番号で答えなさい。



ワインのびん ナイフなどの食器

(早稲田大学図書館蔵)

【通過率】

75.1%

- 1 く公家の間に、国際色豊かで仏教との結びつきの強い文化が広まっていたと考えられる。
- 2 キリスト教の禁止がとかれ、信仰の自由が認められたと考えられる。
- 3 ヨーロッパの文化が伝わり、医者も西洋の新しい技術を学んだと考えられる。
- 4 羽ペンやナイフなど、日本古来の道具が相変わらず使われていたと考えられる。

あきは、幕末から明治時代にかけてのできごとについて新聞にまとめるために、下書きをつくりました。この下書きについて、後の ~ の問いに答えなさい。

<div style="border: 1px dashed black; padding: 20px; min-height: 150px;"> <p style="font-size: 24px; font-weight: bold;">記事 A</p> </div>	<div style="border: 2px solid black; padding: 5px; font-weight: bold; font-size: 24px;">明治新聞</div> <p style="font-weight: bold; font-size: 20px;">幕府滅亡の原因</p>
記事 B 憲法制定	
<div style="border: 1px dashed black; padding: 20px; min-height: 150px;"> <p style="font-size: 20px;">(解説入れる)</p> </div>	<p style="text-align: right; font-weight: bold;">自由民権思想家</p> <p style="text-align: right; font-weight: bold;">中江兆民<small>なかえ ちようみん</small>氏の発言</p> <p>「天皇が与えたまわった憲法は果たしてどんなものだろうか。玉がカワラかその内容も知らないうちにまず(憲法)の名に酔<small>よ</small>う。我が国民はどうしてこんなに愚<small>おろ</small>かでおかしいのだろうか。」兆民先生</p>
岡山県版	
<div style="border: 1px dashed black; padding: 20px; min-height: 100px;"> <p style="font-size: 20px;">(編集後記)</p> </div>	<p style="text-align: right; font-weight: bold;">岡山県でも地租改正</p> <div style="border: 1px dashed black; padding: 10px; min-height: 100px;"> <p style="font-weight: bold; font-size: 20px;">記事Cの下書き</p> <p>岡山県では一八七四年(明治七年)から地租改正が実施された。豊作でも凶作<small>きようさく</small>でもいつも一定の税をおさめるきまりになり、凶作の年には大変困るという理由で多くの農民が反対したことを書く。</p> </div>

記事 A に書く内容としてふさわしいのは、次のア～エのうちではどれとどれですか。組み合わせとして正しいものを後の 1～5 の中から一つ選び、番号で答えなさい。

- ア 将軍のあとつぎ争いと守護大名の対立から戦乱が続き、京都が焼け野原となって滅んだ。
- イ 外国の強さを知った薩摩藩や長州藩が中心になって倒幕運動をすすめたため滅んだ。
- ウ 開国後も人々の生活は苦しく、幕府は徳政令を出したが、商人の反発を受けて滅んだ。
- エ 開国後、貿易が行われたが、物価の上昇に対する人々の怒りが幕府に向けられて滅んだ。

【通過率】  
42.1%

- 1 アとウ    2 イとエ    3 アとエ    4 イとウ    5 ウとエ

記事 B について、あきは中江兆民がなげいた理由を解説に加えようと考えています。その解説として最もふさわしいのは、次の 1～4 のうちではどれですか。一つ選び、番号で答えなさい。

【通過率】  
39.8%

- 1 伊藤博文は自由民権運動のリーダー的存在であったが、天皇が君主権の強い憲法を作成してしまったからなげいたのである。
- 2 自由民権運動をおし進めた板垣退助が、国民にはないしよで自由民権運動に反する内容の憲法をつくってしまったからなげいたのである。
- 3 やっと完成した憲法の内容が、自由民権運動のめざしていた民主的な内容になったことを国民が知らなかったからなげいたのである。
- 4 国民の政治参加をめざし自由民権運動を行ってきたが、新しい憲法が国民の政治参加を制約していたことを国民が知らなかったからなげいたのである。

記事 C の下書きによると、明治政府が地租改正により、いつも一定の税をおさめさせるきまりにした目的はどのようなことだと考えられますか。書きなさい。

【通過率】  
43.5%

**財政（収入・税収）を安定させるため**

これで問題は終わりです。