

平成14年度 小学校
第5学年 社会 調査票

注 意

- 1 実施時間は45分間です。時間内にすべての問題に取り組んでください。
- 2 「始め」の合図があるまで、中を開かないでください。
- 3 先生の指示があつてから、学校名、組、出席番号、名前を書いてください。
出席番号が分からない人は、先生に聞いてください。
- 4 答えは の中、または問題で指示された場所にはっきりと書いてください。
- 5 調査票のあいている場所は、自由に使ってかまいません。
- 6 はじめに地図帳を使って答える問題があります。地図帳をつくえの上に出しておいてください。

			ふりがな	
小学校	5年	組	名	
		番	前	

〈注意〉

最初の問題①は地図帳を使って考えてください。①が終わったら、地図帳をつくえの中にかたづけてください。他の問題を先にはいけません。

問題①は後で見直しをすることができないので、注意してください。

① 夏休みに富士山に登ることになったので、どんなところが調べることにしました。次の(1)、(2)の問いに答えましょう。

(1) 地図帳の「さくいん」を使って、「富士山」を調べ、そのさくいんに書かれている記号を、次の例にならって の中に書きましょう。

例 [18 キ 2]

通過率：81.9%

(2) 富士山は二つの県の県境にあります。地図帳を見て、その二つの県の名前を、 の中に書きましょう。

県と

県

通過率：73.7%

この問題が終わった人は、地図帳をつくえの中にかたづけてください。

2 わが国の米作りについて、次の(1)、(2)の問いに答えましょう。

(1) 秋田県、山形県、新潟県などは「日本の米どころ」と呼ばれており、米作りがさか
んです。その理由としてもっともよくあてはまるものを、次の1～5の中から二つ選
び、その番号を□の中に書きましょう。

- 1 米作りに適した平野が広がっている。
- 2 近くに大都市があり、米がよく売れる。
- 3 豊富な山の雪解け水を、米作りに利用できる。
- 4 夏の日照時間が短く、夏の気温が低いことが、米作りに適している。
- 5 日本の中で交通が特に発達していて、とれた米を全国にはやく運ぶことができる。

1

通過率：82.9%

3

通過率：44.0%

(2) あきらさんたちのグループは、米作りの工夫について調べたことを発表しました。それを読んで、後の①、②の問いに答えましょう。

あきら 「もっと味がよく、寒さや病気に強い米の研究をしています。」

じゅん子 「地域によっては、地下にも用水路やはい水路がとどつて水の管理が楽になったところがあります。」

ゆかり 「ほとんどの作業が機械でできるようになったので、能率よく作業ができます。」

さとし 「農薬や化学肥料を使うことで、米の収穫量は増えたけど、最近ではできるだけ使う量を少なくするようにしています。」

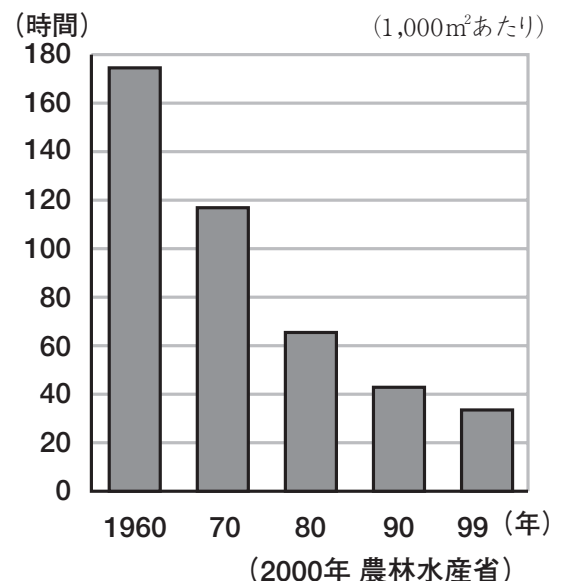
①右のグラフは、だれの発表内容と関係がありますか。もっともあてはまる人を選び、その名前を の中に書きましょう。

ゆかり さん

通過率：68.8%



こうさく
年間耕作時間のうつり変わり



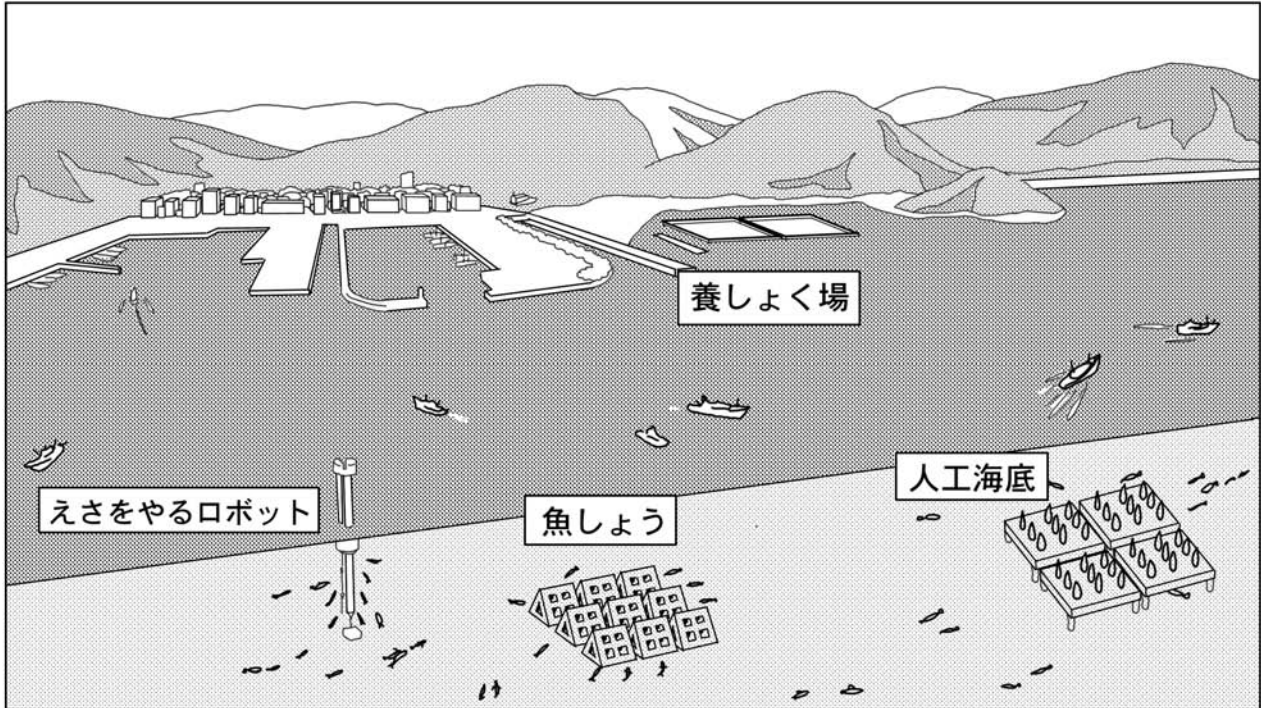
②さとしさんの発表の下線部について、そのようにするのはなぜだと思いますか。正しいものを次の1～4の中から一つ選び、その番号を の中に書きましょう。

- 1 最近の稲は害虫に強く、また、肥料がなくてもよく育つものが多いから。
- 2 化学肥料を使うと、稲ばかりではなく雑草もよく育つから。
- 3 安全な米を食べたいと願う人が多いから。
- 4 農薬をまかない方が、仕事が楽になるから。

3

通過率：80.9%

3 次の絵は、水産業で働く人々の工夫を表しています。これからのわが国の水産業に大切な工夫です。なぜこのような工夫が大切なのでしょう。そのわけを の中に書きましょう。

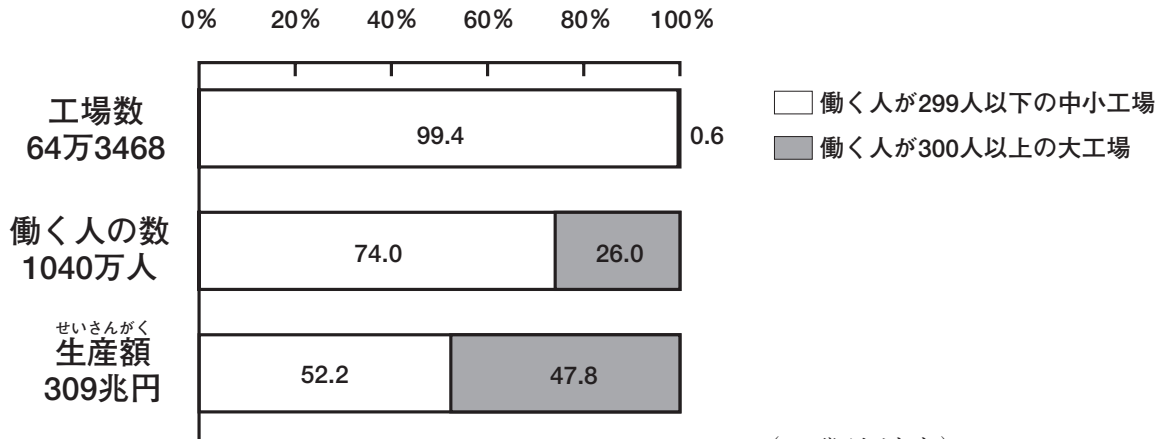


海の資源にも限りがあるから、養しよくをしてつくり育てる漁業を行う工夫をすることが大切だと思う。また、よりよい漁場をつくるために、科学技術を生かして魚を集める工夫をすることも大切だと思う。

通過率：68.5%

4 次のグラフは、わが国の工業の特色を表す資料の一つです。このグラフを見てまとめた後の1～4のカードの中から、正しいものを一つ選び、その番号を□の中に書きましょう。

工場の規模別工場数・働く人の数・生産額のわりあい（製造業のみ，1998年）



(工業統計表)

1 中小工場は、工場一つあたりの生産額が高い。

2 中小工場は、工場数では全体の90%をこえるが、働く人の数では半分ぐらいだ。

3 大工場は、働く人の数も生産額も、全体の半分ぐらいをしめている。

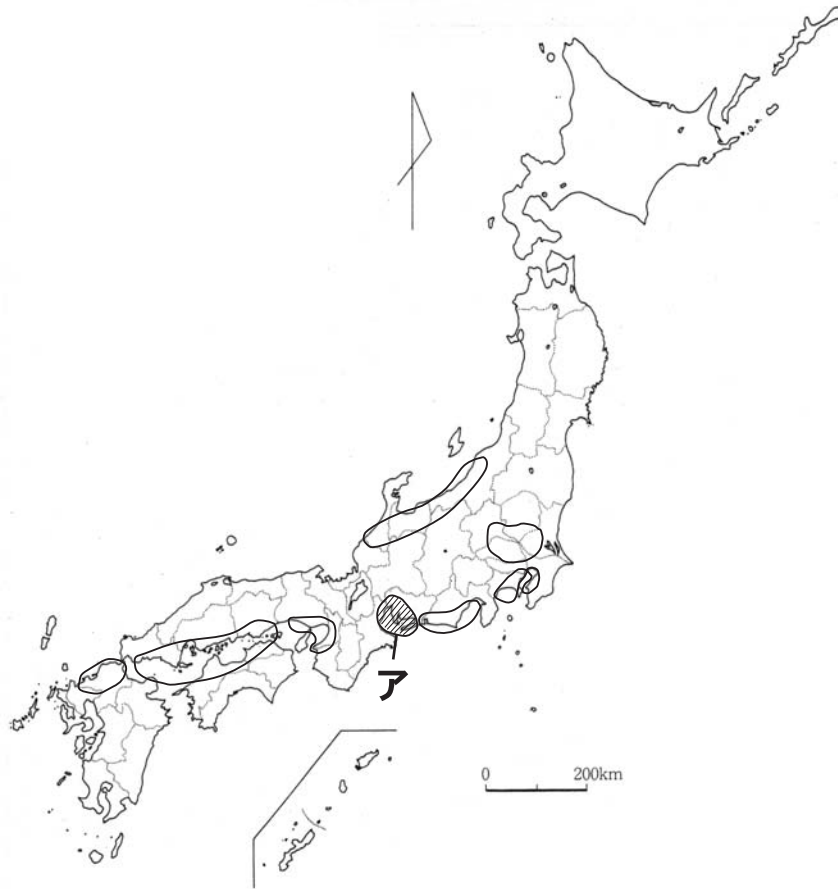
4 大工場は、働く人一人あたりの生産額が高い。

4

通過率：38.0%

5 次の地図を見て、後の(1)、(2)の問いに答えましょう。

日本の工業地帯と工業地域^{ちいき}



○で囲んでいる部分は、日本の工業地帯や工業地域を示している。

(1) 地図に示されているアの工業地帯（地域）は、何と言いますか。次の1～4の中から一つ選び、その番号を□の中に書きましょう。

- | | |
|----------|----------|
| 1 阪神工業地帯 | 2 中京工業地帯 |
| 3 東海工業地域 | 4 京浜工業地帯 |

2

通過率：40.6%

(2) 大きな工業地帯が海に面しているのはなぜですか。次の1～4の中から一つ選び、その番号を□の中に書きましょう。

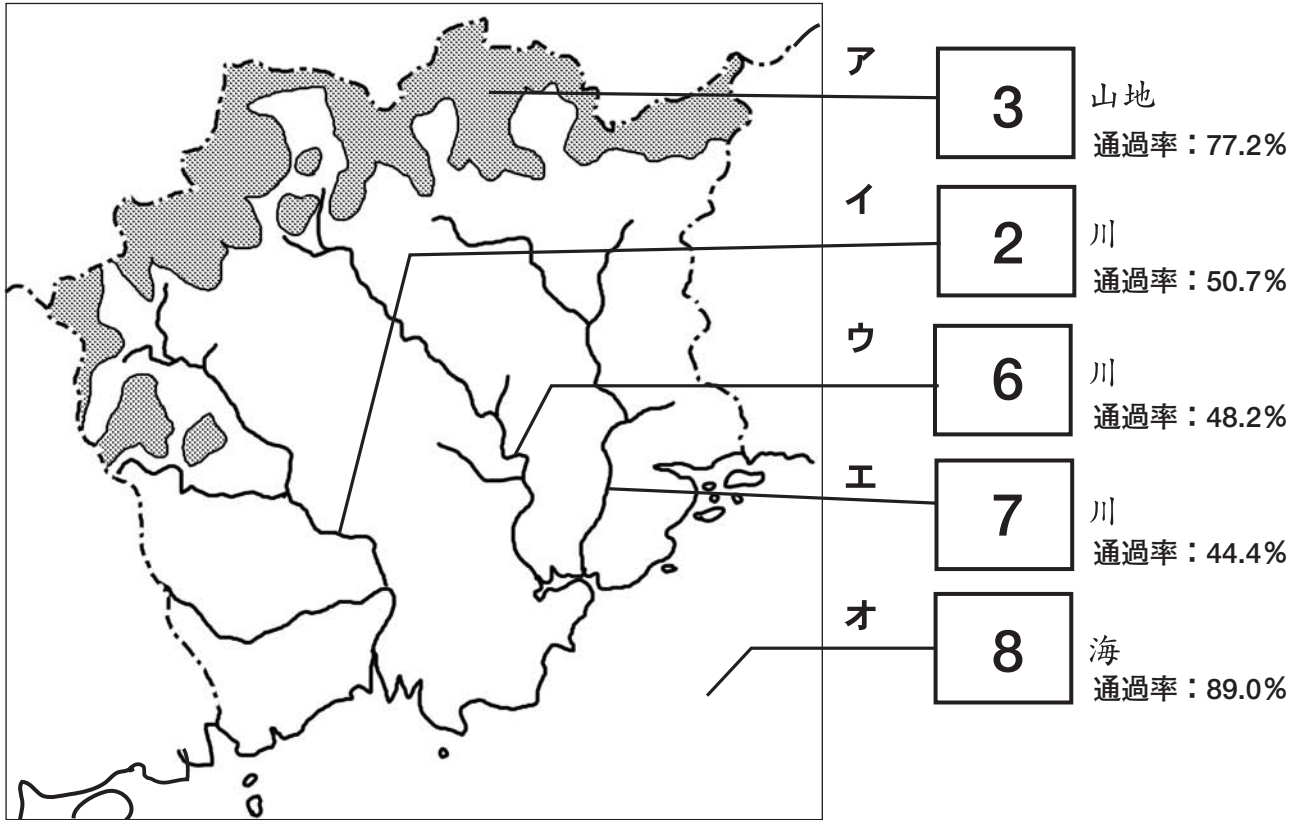
- 1 海ぞいの地域では地下資源^{しげん}が多くとれるから。
- 2 原材料や製品^{せいひん}を船で運ぶのにつごうがいいから。
- 3 多くの工場^{せいひん}で、海水をエネルギーとして利用できるから。
- 4 海に面した土地の方が、公害の心配がないから。

2

通過率：76.8%

6 岡山県のようにすについて、次の(1)~(3)の問いに答えましょう。

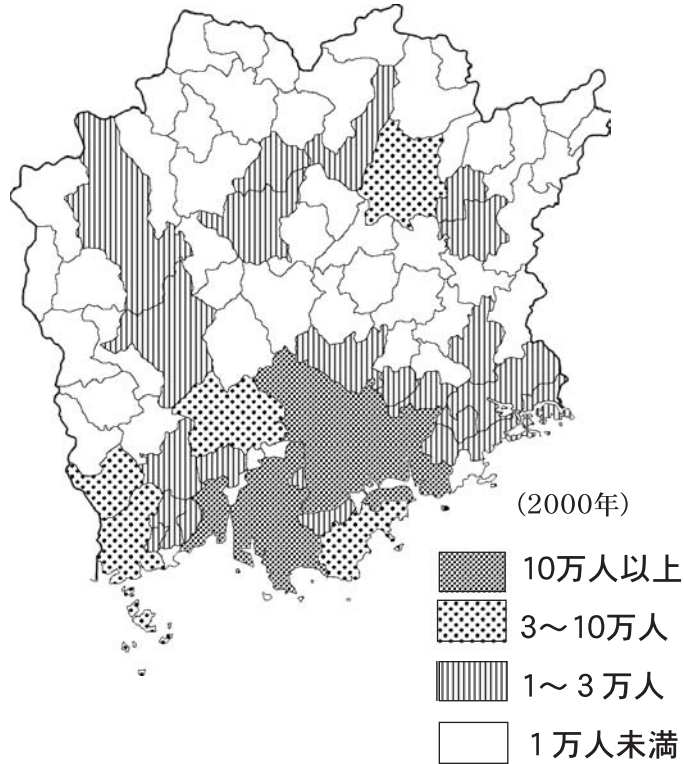
(1) 次の地図中のア~オにあてはまる言葉を、後の1~9の中から一つずつ選び、その番号を□の中に書きましょう。



- | | | |
|------|-----------------------------------|---------------------------------|
| 1 日本 | 2 ^{たか} 高 ^{はし} 梁 | 3 中国 |
| 4 岡山 | 5 四国 | 6 ^{あさひ} 旭 |
| 7 吉井 | 8 瀬戸内 | 9 ^き 吉 ^び 備 |

- (2) 次の地図を見て、後の①の の中にあてはまる言葉を漢字で書きましょう。
 ②については、あてはまる方を○で囲みましょう。

岡山県の市町村別人口



- ① 岡山県の県庁所在地は 市 である。

通過率：75.1%

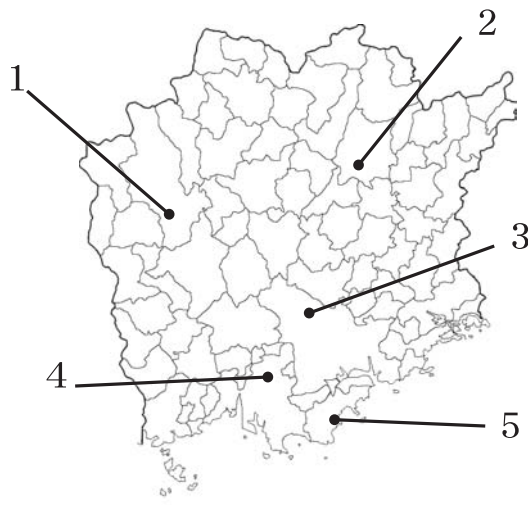


- ② 岡山県で人口が集中しているのは、県の である。

通過率：85.9%



- (3) 岡山空港はどこにありますか。次の地図の1～5の中から一つ選び、その番号を の中に書きましょう。



通過率：56.1%