

2 - 2

4

【おさらい】

かけ算のしきは

1 つ分の数

×

いくつ分 = ぜんぶの数

3 つのふくろに、みかんが6 こずつ入っています。

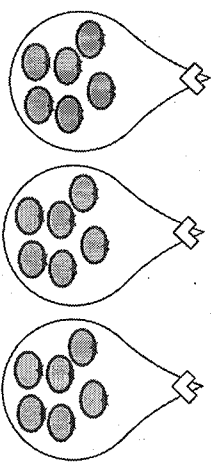
みかんはぜんぶで何こありますか。

① 1 ふくろ分の数 () こ

② ふくろの数 () ふくろ

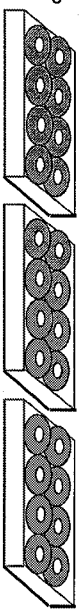
③ しき (^{1 ふくろ分の数}) × (^{ふくろの数}) = (^{ぜんぶの数})

④ こたえ () こ

1 つ分が
かけられる数になるよ。

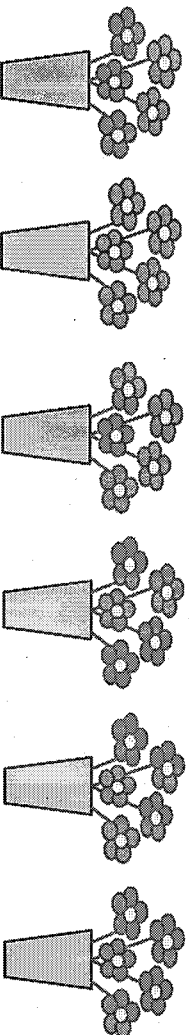
【れんしゅう】

1 はこが3 はこあります。

1 はこにドーナツが8 こずつ入っています。
ドーナツはぜんぶで何こでしょう。1 はこのドーナツの数 はこの数 ドーナツぜんぶの数
() × () = ()

こたえ () こ

2 絵を見て、() にあう数をかきましよう。



1 つのかびんに花が (本) 入っています。

かびんは (つ) あるので、

花はぜんぶで (本) です。

しき

3 つぎのけい算をしましょう。

① 3×9 ② 6×8 ③ 8×4 ④ 9×7 ⑤ 5×9 ⑥ 7×3

【おさらい】

① 6 こ ② 3 ふくろ ③ $6 \times 3 = 18$ ④ 18 こ

【れんしゅう】

① $8 \times 3 = 24$ 24 こ ② 5 本 6 つ 30 本 しき : $5 \times 6 = 30$

③ ① 27 ② 48 ③ 32 ④ 63 ⑤ 45 ⑥ 21